

МИНИСТАРСТВО ПРОСВЕТЕ, НАУКЕ И ТЕХНОЛОШКОГ
РАЗВОЈА РЕПУБЛИКЕ СРБИЈЕ
И СРПСКО ГЕОГРАФСКО ДРУШТВО

ОКРУЖНО ТАКМИЧЕЊЕ ИЗ
ГЕОГРАФИЈЕ
ЗА 7. РАЗРЕД



Београд, 2017.



УПУТСТВО ЗА РАД

Пред вама је тест знања из географије за 7. разред. Питања обухватају градиво редовне и додатне наставе 7. разреда. На крају сваког питања (број у загради) уписан је број могућих бодова којима се вреднују одговори.

На текстуална питања одговор је потребно написати читко, без прецртавања, обавезно хемијском оловком. Поједини задаци садрже вишеструки избор. Потребно је пронаћи тачан или тачне одговоре и заокружити слова која се налазе испред њих. Ако заокружите више одговора од траженог броја, задатак се неће признати. Код неких питања задаци су дати у две колоне. Ваш задатак је да повежете, тј. "спарите" податке из колоне, тако што ћете читко уписивати слова из једне колоне на линије које се налазе испред друге колоне (спаривања стрелицама или дописивање неће се вредновати). Код задатака где се тражи да упишете одговоре на линије, упишите их јасно и тачно, без накнадног прецртавања и дописивања одговора.

На директна питања потребно је одговорити кратко и јасно. Прецртавање или накнадно дописивање одговора се неће вредновати.

Време за решавање свих задатака је 90 минута. Уколико завршите раније, тихо и без ометања других такмичара можете изаћи из учионице.

Желимо вам пуно успеха у раду!

Задатке предложили:

мср Марко Ланговић
мср Војислав Деђански

Рецензент:

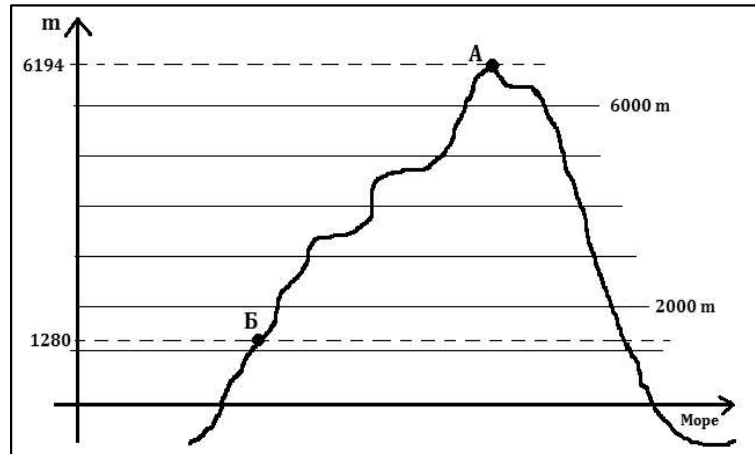
др Славољуб Јовановић



1. Пажљиво прочитај текст и одговори на питање. Милан се налази на камповању на обали Великог сланог језера на надморској висини од 1280 m (Тачка Б). Његов друг Ђорђе се налази на камповању на највишој тачки Северне Америке, на надморској висини од 6 194 m (Тачка А).

А) Одреди релативну надморску висину тачке на којој се налази Ђорђе, у односу на надморску висину тачке на којој се налази Милан.

Простор за рачунање:



Заокружи слово испред тачног одговора:

- а) 4914 m
- б) 3528 m
- в) 0 m
- г) 2790 m

(1 x 2 = 2)

Б) На приложеном графикању уцртај линију која показује релативну висину тачке А у односу на тачку Б.

(1 x 2 = 2)

2. Следеће тврдње односе се на рељеф Северне Америке. Уколико је тврдња тачна заокружи слово Т, ако је нетачна заокружи слово Н.

- а) Највиша тачка Северне Америке се налази на Аљасци. Т Н
- б) Кордиљери се протежу дуж источне обале Северне Америке. Т Н
- в) Апалачке планине спадају у групу веначних планина. Т Н
- г) Канадски штит представља најстарији део Северне Америке. Т Н

(4 x 1 = 4)



3. Зашто Гвинејска Африка прима већу количину падавина у летњем периоду? Заокружи слово испред тачног одговора.

- а) Због хладних морских струја
- б) Због југозападних пасата
- в) Због близине пустиње Сахаре
- г) Због високих планина

(1 x 2 = 2)

4. У сваком наведеном низу појмова постоји „уљез“. Пронађи и подвуци га. Затим, испод сваког низа појмова дата су објашњења због чега је дати појам „уљез“. Заокружи слово испред тачног објашњења.

А) први низ појмова: Суецки канал, Црвено море, Баб ел Мандеб, Бенгалски залив

Објашњења:

- а) Не налази се у Јужној Азији.
- б) Не налази се у Југозападној Азији.
- в) Део је Тихог океана.

(1 + 1 = 2)

Б) други низ појмова: Вијетнам, Лаос, Бутан, Камбоџа

Објашњења:

- а) Налази се у Јужној Азији.
- б) Није држава.
- в) Не излази на Тихи океан.

(1 + 1 = 2)

В) трећи низ појмова: Арарат, Каракум, Хиндукуш, Хималаји

Објашњења:

- а) Не представља пустињу.
- б) Налази се у Југоисточној Азији.
- в) Не представља планину.

(1 + 1 = 2)



5. Где се налази област црне металургије у САД-у? Заокружи слово испред тачног одговора.
- а) Западна обала САД-а
 - б) Подручје Апалача
 - в) Флорида
 - г) Тексас
- (1 x 1 = 1)
6. Замислите ситуацију да којим случајем нестане Голфска струја. Шта би се у том случају десило са количином падавина на полуострву Флорида? Заокружи слово испред тачног одговора.
- а) Количина падавина би била нижа од садашње.
 - б) Количина падавина би се знатно повећала.
 - в) Количина падавина би се незнатно повећала.
 - г) Не би се променила количина падавина.
- (1 x 3 = 3)
7. Сваку афричку реку из леве колоне повежи са морем или океаном из десне колоне у које се улива. Обрати пажњу, у наведени океан или море може се уливати више понуђених река! Напиши одговарајућа слова на празне црте.
- а) Нил
 - б) Нигер _____ Атлантски океан
 - в) Замбези _____ Средоземно море
 - г) Орање _____ Индијски океан
 - д) Конго
- (5 x 1 = 5)
8. Бројевима од 1 до 3 рангирајте простирање вегетације на простору Северне Америке крећући се од севера ка југу тако да број 1 одговара вегетацији која допире највише на север, а број 3 одговара вегетацији која се налази најјужније .
- _____ тајга
 - _____ тундра
 - _____ прерија
- (3 x 1 = 3)



9. Због чега се каже да је Јапан „привредно чудо“? Заокружи слова испред тачних одговора.

- а) због велике површине коју заузима
- б) због великог улагања у науку и образовање
- в) због све већег пораста броја становника
- г) због великих лежишта нафте
- д) због високо развијене и модернизоване индустрије (2 x 2 = 4)

10. Сваки наведени појам из леве колоне повежи са облицима рељефа којима припадају из десне колоне. Обрати пажњу, више понуђених појмова могу бити исти облици рељефа! Напиши одговарајућа слова на празне црте.

- а) Атлас
- б) Ахагар _____ пустиње
- в) Калахари _____ висоравни
- г) Либијска _____ планине
- д) Етиопска
- ђ) Туркана (5 x 1 = 5)

11. А) Које острво је означено на приложеној карти Југоисточне Азије? Заокружи слово испред тачног одговора.

- а) Суматра
- б) Хоншу
- в) Борнео
- г) Јава



(1 x 1 = 1)



Б) Острво на слици је познато као једно од најгушће насељених делова света. Од понуђених фактора пронађи онај који је највише утицао на велику густину насељености острва. Заокружи слово испред тачног одговора.

- а) Разноврстан биљни и животињски свет
- б) Плодно вулканско земљиште
- в) Велико богатство резервама руде
- д) Повољна суптропска клима

(1 x 2 = 2)

12. Који су најважнији фактори високог степена привредног развоја Северне Америке?

Заокружи слова испред тачних одговора.

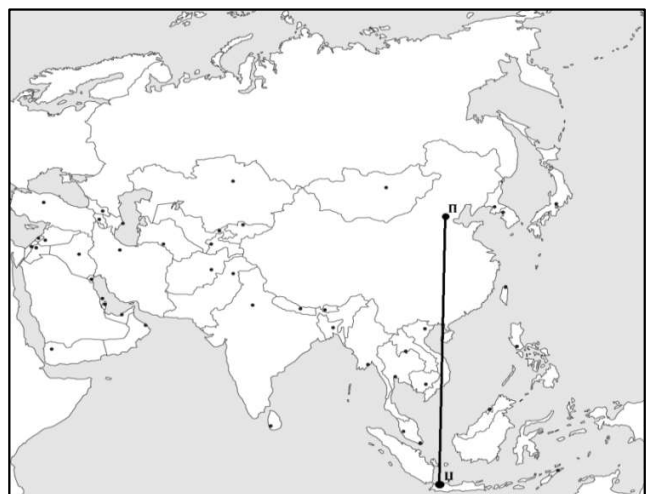
- а) Емиграција становништва
- б) Велики проценат сеоског становништва
- в) Богатство природним ресурсима
- г) Одсуство ратних сукоба још од XIX века
- д) Неравномерна густина насељености

(2 x 2 = 4)

13. Бојан се налази на пословном путу у Азији. Тренутно је лоциран у Индонезији, а мора отићи на састанак који ће се одржати у Пекингу. Уз помоћ приложене карте закључи кроз које климатске типове ће проћи приликом свог лета из Џакарте до Пекинга. Заокружи слова испред тачних одговора.

- а) Екваторијална / клима тропских влажних шума
- б) Тропска сува / пустињска / сува пустињска
- в) Субполарна / клима тундри
- г) Планинска
- д) Умерено топла монсунска / умерено топла са сувом зимом / синијска

(2 x 3 = 6)





14. С обзиром на то да се сваке године смањује површина Аралског језера, научници предвиђају да ће у будућности оно нестати. Који је главни фактор који утиче на смањење површине језера? Заокружи слово испред тачног одговора.

- а) Прекомерно коришћење притока језера за наводњавање
- б) Нагло смањење количине падавина
- в) Велика густина насељености на обалама језера
- д) Спуштање језерског басена под утицајем тектонских покрета (1 x 2 = 2)

15. Који се од наведених градова налазе у Западној Африци? Заокружи слова испред тачних одговора.

- а) Лагос
- б) Јоханезбург
- в) Каиро
- г) Акра
- д) Могациш (2 x 1 = 2)

16. Наредне тврдње се односе на географске одлике Јапана. Уколико је тврдња тачна заокружи слово Т, ако је нетачна заокружи слово Н.

- а) Највећи мегалополис на свету налази се у Јапану. Т Н
 - б) Јапан се често назива и „Земља залазећег Сунца“. Т Н
 - в) Јапан се одликује великом густином насељености. Т Н
 - г) По извозу рибе и рибљих производа међу водећима је у свету. Т Н
- (4 x 1 = 4)

17. Које регије Северне Америке имају велику густину насељености? Заокружи слова испред тачних одговора.

- а) Калифорнија
- б) Област Великих језера
- в) Аљаска
- г) Њуфаундленд
- д) Мохава (2 x 1 = 2)



18. Прокопавањем Суецког канала 1869. године повезани су Средоземно и Црвено море.

Замислите да Суецки канал није прокопан, која би од наведених тврдњи била тачна?

Заокружи слова испред тачних одговора.

а) Долина Нила не би била густо насељена.

б) Египат би имао мање повољан саобраћајно – географски положај.

в) Египат би био боље саобраћајно повезан са осталим континентима.

г) Црвено море би имало нижи салинитет.

д) Привреда Египта би била слабије развијена.

(2 x 3 = 6)

19. Сваки град Северне Америке из леве колоне повежи са обалом на којој се налази из десне колоне. Обрати пажњу, на наведеним обалама може се наћи више понуђених градова! Напиши одговарајућа слова на празне црте.

а) Њујорк

б) Филадельфија

в) Сан Франциско _____ Источна обала

г) Ванкувер _____ Западна обала

д) Вашингтон

ђ) Сан Дијего

(6 x 1 = 6)

20. Читајући рубрику „Веровали или не“, Јована је прочитала велики број информација везаних за географске карактеристике Азије. Неке од њих су погрешне, а неке су тачне. Одредите које од наредних информација могу бити тачне, а које не могу. На црти поред информација уписати слово Т уколико је информација тачна или слово Н уколико информација није тачна.

У Улан Батору отворена модерна морска лука. _____

Од последица поплава велики број становника Бангладеша је изгубило живот. _____

Хонг Конг је поново постао део Кине. _____

Светско првенство у кајаку на речним водама одржано је у Саудијској Арабији. _____

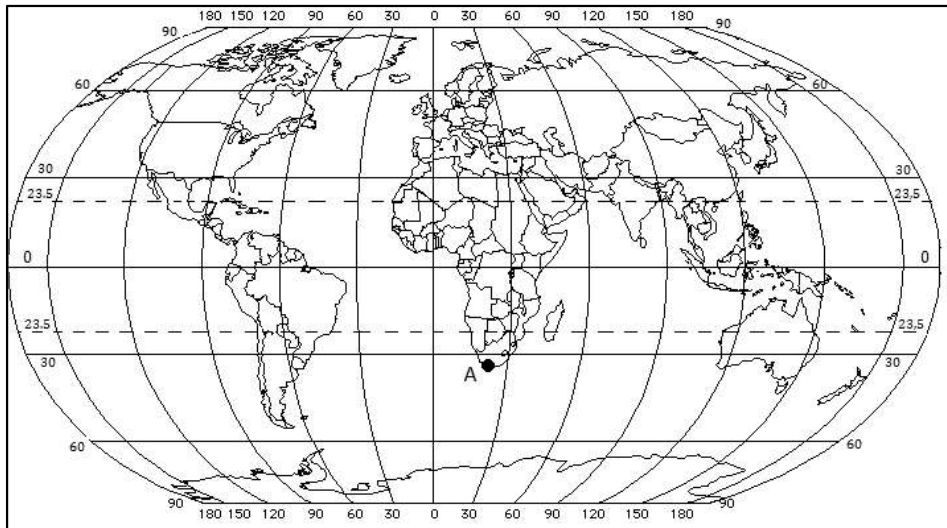
(4 x 2 = 8)



21. Из Кејптауна (тачка А) полетео је авион за град чије су координате 25° СГШ (N) и 80° ЗГД (W) (Тачка Б). На приложеној карти обележите словом Б тражену тачку и одговорити о ком граду је реч. Заокружи слово испред тачног одговора.

- а) Торонто
- б) Мајами
- в) Каиро
- г) Пекинг

(2 x 2 = 4)



22. У наредним тврдњама дате су две подебљане (**болдиране**) речи од којих је једна тачна, а друга нетачна. У свакој тврдњи прецртај нетачну реч.

Најважнији енергетски извор у Јужној Африци је **нафта/угаљ**.

Највећа налазишта бакра у Африци су у **ДР Конгу/Гвинеји**.

Највеће површине под шумама у Африци су у „**Рогу Африке**“ / **басену Конга**.

Винова лоза се гаји у **Алжиру/Чад**.

(4 x 1 = 4)

23. Наведени појмови су карактеристични за Северну или Западну Африку. На линијама поред појмова уписати број 1 уколико се појам односи на Северну Африку или број 2 уколико се појам односи на Западну Африку.

а) пирамиде у Гизи _____

г) Пигмеји _____

б) Сенегал _____

д) Туарези _____

в) шотови _____

ђ) Волта _____

(6 x 1 = 6)



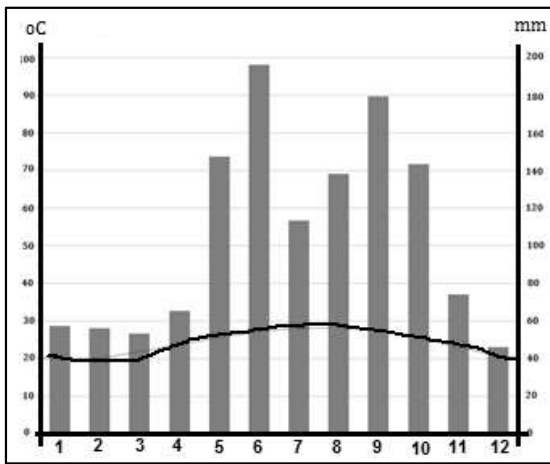
24. Повежите области Северне Америке са клима дијаграмима који им одговарају. Бројеве који се налазе испод клима дијаграма упиши на празне линије испред области Северне Америке.

___ Аљаска

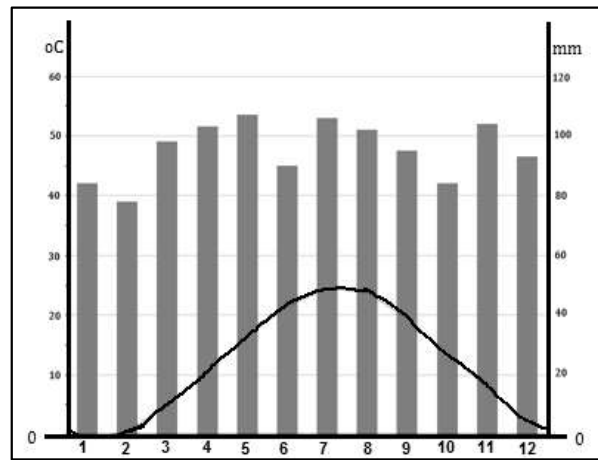
___ Флорида

___ Источна обала САД-а

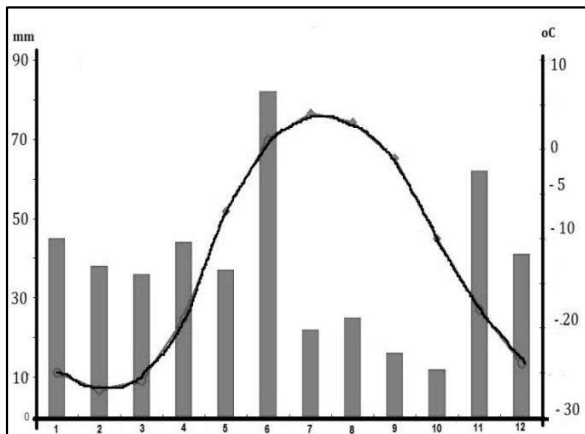
(3 x 2 = 6)



1



2



3





Такмичар је на тесту освојио _____ бодова Укупан број бодова: 100

Чланови комисије:

- 1) _____
- 2) _____
- 3) _____